



الجمهورية الجزائرية الديمقراطية الشعبية
وزارة التربية الوطنية

الديوان الوطني للامتحانات والمسابقات
امتحان بكالوريا التعليم الثانوي
الشعبة: تقني رياضي

دورة: 2022

المدة: 04 سا و 30 د

اختبار في مادة: التكنولوجيا (هندسة مدنية)

على المترشح أن يختار أحد الموضوعين الآتيين:

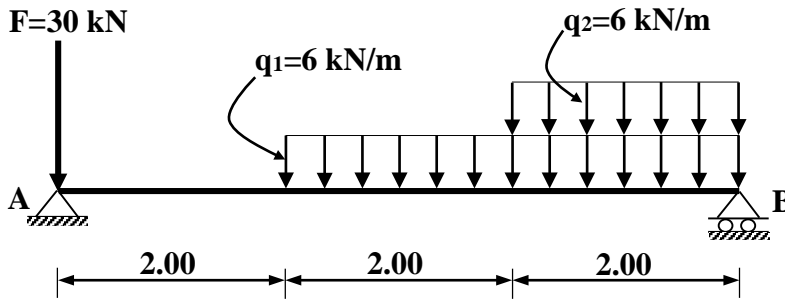
الموضوع الأول

يحتوي الموضوع على (03) صفحات (من الصفحة 1 من 7 إلى الصفحة 3 من 7)

الميكانيك المطبقة: (12 نقطة)

النشاط الأول: الانحناء المستوي البسيط (07 نقاط)

رافدة معدنية من نوع مجنّب IPE مُرتكزة على مسندين A و B، مُحمّلة كما هو مبين في الشكل (1).



الشكل (1)

المسند A: مزدوج

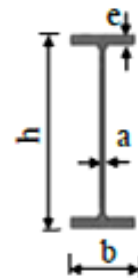
المسند B: بسيط

العمل المطلوب:

- احسب ردود الأفعال عند المسندين A و B.
- اكتب معادلات الجهد القاطع $T(x)$ وعزم الانحناء $M_f(x)$ على طول الرافدة.
- ارسم المنحنيات البيانية للجهد القاطع $T(x)$ وعزم الانحناء $M_f(x)$ على طول الرافدة.
- حدّد من الجدول المُرفق (1) المجنّب IPE اللازم والكافي الذي يحقق شرط المقاومة علما أنّ:
عزم الانحناء الأقصى: $M_{f\max} = 28.33 \text{ kN.m}$ والاجهاد المسموح به: $\bar{\sigma} = 1600 \text{ daN/cm}^2$

- الجدول المُرفق (1):

التعيين	الأبعاد				المقطع	بالنسبة لـ 'xx'	
	h (mm)	b (mm)	a (mm)	e (mm)		I_{xx} (cm ⁴)	W_{xx} (cm ³)
140	140	73	4,7	6,9	16,4	541	77,3
160	160	82	5	7,4	20,1	859	109
180	180	91	5,3	8	23,9	1317	146
200	200	100	5,6	8,5	28,5	1843	184
220	220	110	5,9	9,2	33,4	2772	252
240	240	120	6,2	9,8	39,1	3892	324



المقطع العرضي لمجنّب IPE

النشاط الثاني: التحريصات البسيطة (05 نقاط)

من أجل تركيب قضيب من مادّتين مختلفتين (a) و (b)، تمّ تقسيم الدراسة إلى جزأين:

الجزء الأول:

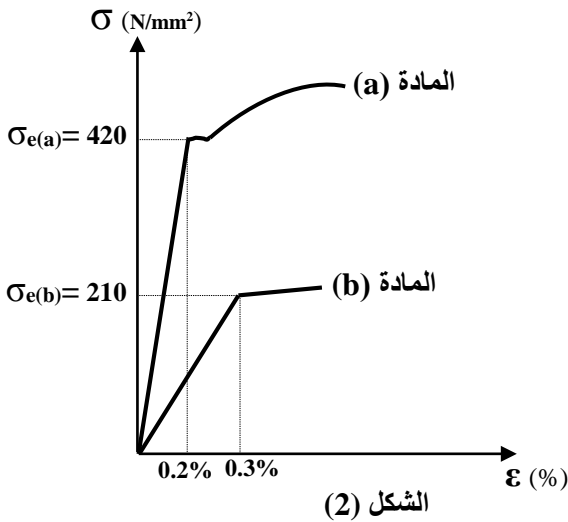
تمّ إجراء تجربتين للشدّ البسيط على عيّنتين من المادّتين المختلفتين (a) و (b)، فتحصّلنا على المنحنيين البيانيين الممثلين في الشكل (2).

العمل المطلوب:

(1) احسب معامل المرونة الطّولي E لكل من المادّتين (a) و (b) اعتمادا على الشكل (2).

(2) استنتج نوع المادّتين (a) و (b) من الجدول المرفق (2).

- الجدول المرفق (2):



المادة	معامل المرونة الطّولي E (N/mm^2)
الفولاذ	2.1×10^5
النحاس	0.9×10^5
الألمنيوم	7×10^4

الجزء الثاني:

القضيب مركّب من قطعتين (1) و (2)، موثوق في النقطة A وخاضع لقوة شدّ محورية F حسب الشكل (3)، حيث أنّ:

- القطعة (1): مصنوعة من المادة (a)، مساحة مقطعها: $S_1 = 500 \text{ mm}^2$.

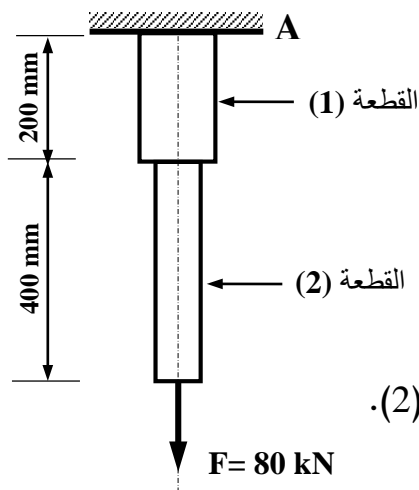
- القطعة (2): مصنوعة من المادة (b)، مساحة مقطعها: $S_2 = 400 \text{ mm}^2$.

العمل المطلوب:

(1) احسب رد فعل الوثاقة V_A .

(2) احسب الجهد N والاجهاد σ الناظميين على مستوى القطعة (1) ثم القطعة (2).

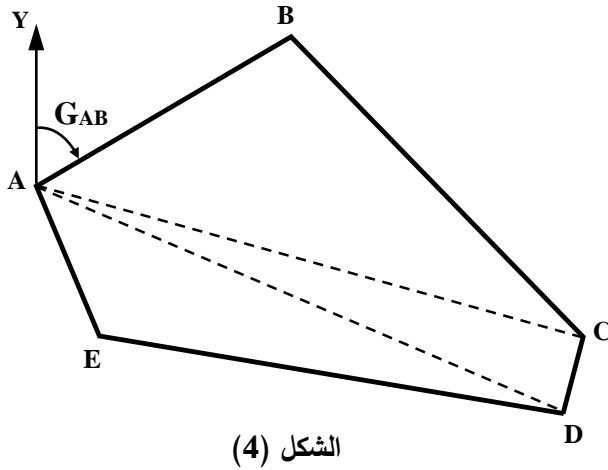
(3) احسب الاستطالة المطلقة الكلية (ΔL) للقضيب.



البناء : (08 نقاط)

النشاط الأول: عموميات حول الطبوغرافيا (05 نقاط)

قصد تقسيم قطعة أرضية (ABCDE) مساحتها: $S_{ABCDE} = 2022 \text{ m}^2$ موضحة في الشكل (4) ، قام طبوغرافي بمجموعة من القياسات فتحصّل على النتائج التالية:



الاحداثيات القائمة		
النقطة	X (m)	Y (m)
A	30.4	30
B	64	50
C	103	10
D	?	?
E	39	10

الاحداثيات القطبية	
G (gr)	L (m)
$G_{AC} = 117.113$	$L_{AC} = 75.30$
$G_{AD} = 125.909$	$L_{AD} = 75.79$

العمل المطلوب:

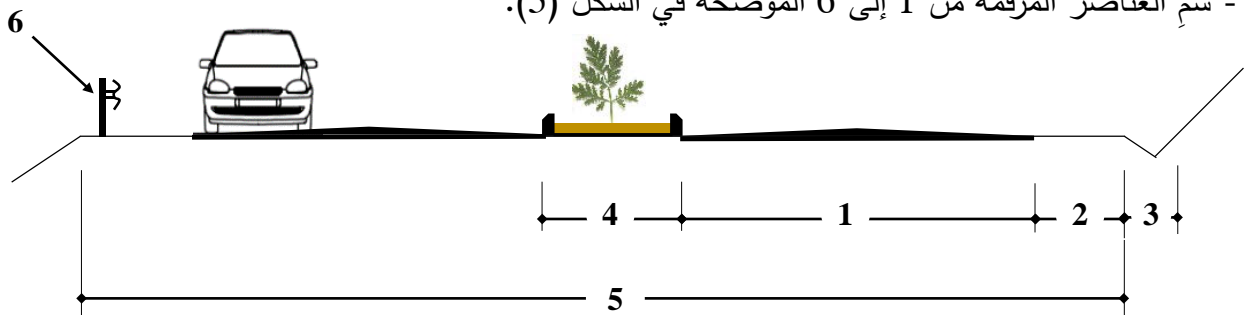
- احسب السمت الاحداثي G_{AB} والمسافة L_{AB} .
- احسب الاحداثيات القائمة للنقطة D ($X_D ; Y_D$).
- احسب مساحة الجزء (ABC) من القطعة الأرضية بطريقة الاحداثيات القائمة.
- احسب مساحة الجزء (ACD) من القطعة الأرضية بطريقة الاحداثيات القطبية.
- استنتج مساحة الجزء (ADE) المتبقي من القطعة الأرضية.

النشاط الثاني: الطرق (03 نقاط)

يوضّح الشكل (5) مجموعة من العناصر المكوّنة للطريق.

العمل المطلوب:

- سمّ العناصر المرقّمة من 1 إلى 6 الموضحة في الشكل (5).



الشكل (5)

انتهى الموضوع الأول

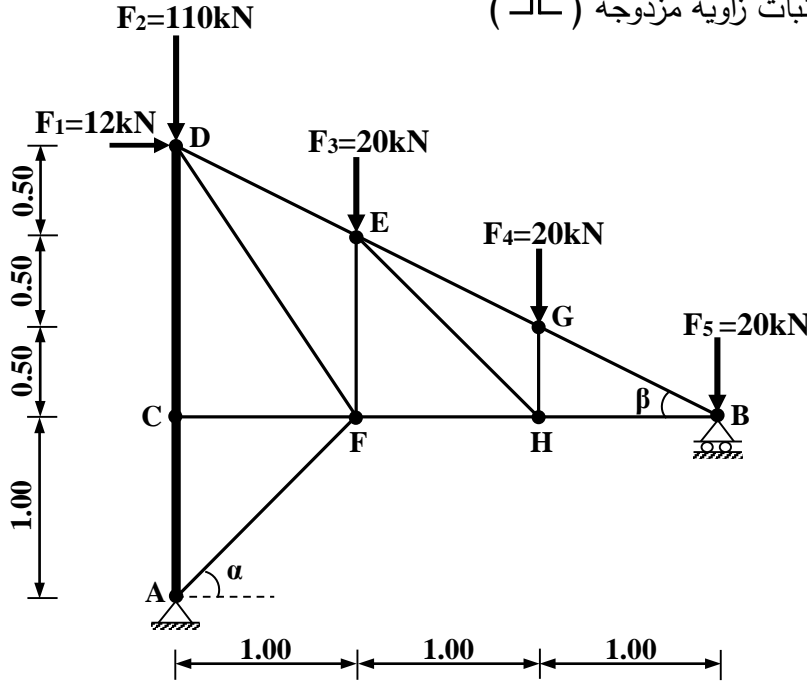
الموضوع الثاني

يحتوي الموضوع على (04) صفحات (من الصفحة 4 من 7 إلى الصفحة 7 من 7)

الميكانيك المطبقة: (12 نقطة)

النشاط الأول: الأنظمة المثلية (07 نقاط)

لإنجاز مدرجات ملعب، تم اقتراح هيكل مثلي مُحدد سكونيًا موضَّح في الشكل (1)، حيث أن القضيبيين AC و CD مجنَّبات من نوع IPE وباقي القضبان مجنَّبات زاوية مزدوجة (L)



الشكل (1)

المسند A: مزدوج

المسند B: بسيط

يُعطي :

$$\begin{cases} \cos \alpha = 0.707 \\ \sin \alpha = 0.707 \end{cases}$$

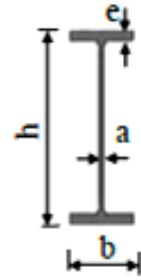
$$\begin{cases} \cos \beta = 0.894 \\ \sin \beta = 0.447 \end{cases}$$

العمل المطلوب:

- (1) احسب ردود الأفعال عند المسندين A و B .
- (2) احسب الجهود الداخلية للقضبان التالية: AC , AF , BG , BH , GE , GH باستعمال طريقة عزل العقد (مع تدوين النتائج في جدول)
- (3) حدّد المجنَّب IPE اللازم والكافي للمقاومة بالنسبة للقضيبي CD اعتمادا على الجدول المرفق (1) علماً أنّ:
 - الجهد الناظمي في القضيبي: $N_{CD} = 132 \text{ kN}$
 - الاجهاد المسموح به: $\bar{\sigma} = 1600 \text{ daN/cm}^2$
- (4) تحقّق من شرط المقاومة لقضبان النظام المثلي المنجزة من مجنَّبات زاوية مزدوجة (L) علماً أنّ:
 - مساحة مقطع المجنَّب الزاوي المُستعمل في هذه القضبان (35×35×3.5) L : $2S = 4.78 \text{ cm}^2$
 - الجهد الناظمي الأقصى في هذه القضبان: $N_{\max} = 67.11 \text{ kN}$
 - الاجهاد المسموح به: $\bar{\sigma} = 1600 \text{ daN/cm}^2$

الجدول المُرفق (1):

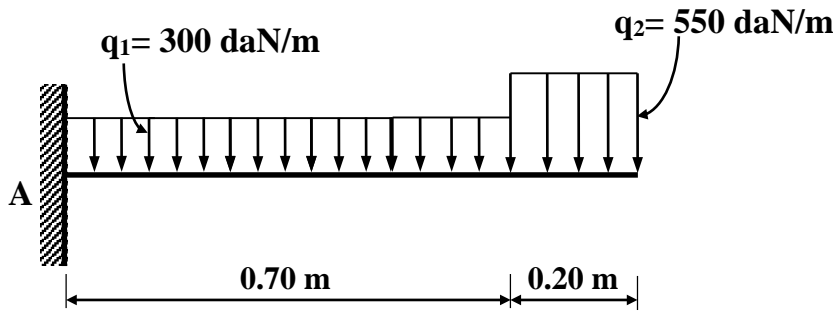
التعيين	الأبعاد				المقطع	بالنسبة لـ (xx')	
	h (mm)	b (mm)	a (mm)	e (mm)		S (cm ²)	I _{xx'} (cm ⁴)
IPE 80	80	46	3,8	5,2	7,64	80,1	20
IPE 100	100	55	4,1	5,7	10,3	171	34,2
IPE 120	120	64	4,4	6,3	13,2	318	53
IPE 140	140	73	4,7	6,9	16,4	541	77,3



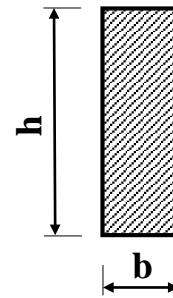
المقطع العرضي لمجنّب IPE

النشاط الثاني: الانحناء المستوي البسيط (05 نقاط)

قصد ترميم منزل عتيق يُقترح دراسة إحدى روافد الشرفات، موثوقة في النقطة A ومُحمّلة حسب الشكل (2)، مقطّعا العرضي مُوضّح في الشكل (3).



الشكل (2)



الشكل (3)

العمل المطلوب:

- 1) احسب ردود الأفعال عند الوثاقة A.
- 2) اكتب معادلات الجهد القاطع T(x) وعزم الانحناء M_f(x) على طول الزّافدة.
- 3) ارسم المنحنيات البيانية للجهد القاطع T(x) وعزم الانحناء M_f(x) على طول الزّافدة.
- 4) حدّد الارتفاع (h) لمقطع الزّافدة اللازم والكافي لتحقيق شرط المقاومة علماً أنّ:

- العلاقة بين ارتفاع وعرض المقطع: $h = 3b$

- عزم الانحناء الأقصى: $M_{fmax} = 161.50 \text{ daN.m}$

- الاجهاد المسموح به: $\bar{\sigma} = 200 \text{ daN/cm}^2$

- تُقترح بعض القيم النظامية للارتفاع h: 30 cm – 25 cm – 20 cm – 15 cm – 10 cm

البناء : (08 نقاط)

النشاط الأول: الطرق (05 نقاط)

تُمثل الوثيقة المرفقة في الصفحة (7 من 7) جدول المظهر الطولي لجزء من مشروع طريق.
العمل المطلوب:

- ارسم المظهر الطولي مع إتمام جميع البيانات على الوثيقة المرفقة في الصفحة (7 من 7).

النشاط الثاني: المنشأ العلوي (03 نقاط)

تُعتبر الرّوافد عنصرًا من عناصر المنشأ العلوي.

العمل المطلوب:

- صَنّف الرّوافد حسب ما يلي:

- مادة الصُّنع.
- شكل مقطعها العرضي.

أرقام المظاهر	منسوب خط الأرض الطبيعية	منسوب خط المشروع	المسافات الجزئية	المسافات المتراكمة	ميل خط المشروع	التراصفت والمفرجات
01	91.00	95.00	25.00	0.00	مبول خط المشروع	
02	93.00		30.00			
03	95.00					
04	95.00	93.00				
05	94.00		35.00			
06	91.00		30.00			
07	89.00	93.00	25.00			

1/100
1/1000

+ 87.00